


Enigme n°2 : cycle 1

L'aquarium de Julie (niveau 1)







Quel aquarium contient le plus de poissons ?

Réponse : c'est l'aquarium

Enigme n°2 : cycle 1

L'aquarium de Julie (niveau 2)

Julie a fait la liste des poissons de son aquarium.
Voici sa liste.
Quel est son aquarium ?

| | |
|---|---|
|  | 2 |
|  | 2 |
|  | 1 |
|  | 3 |











Réponse : c'est l'aquarium





Enigme n°2 : cycle 1

L'aquarium de Julie (niveau 3)



| A | |
|---|---|
|  | 2 |
|  | 2 |
|  | 2 |
|  | 1 |

| B | |
|---|---|
|  | 2 |
|  | 1 |
|  | 2 |
|  | 3 |

| C | |
|---|---|
|  | 1 |
|  | 3 |
|  | 3 |
|  | 2 |

Indique le nom du tableau qui correspond à l'aquarium.

Réponse : c'est le tableau.....

Matériel à utiliser éventuellement

