

Enigme n°5 : cycle 2

1. Le nombre mystérieux

Je pense à un nombre.

Il est plus grand que 30 et plus petit que 50.

Il n'a pas de 4.

Si j'ajoute ses deux chiffres, cela fait 8.

Qui est le nombre mystérieux?









2. Les souris

Des petites souris se suivent toujours dans le même ordre.



Quelle est la souris suivante?

					
A	B	C	D	E	F

Indique la bonne lettre.