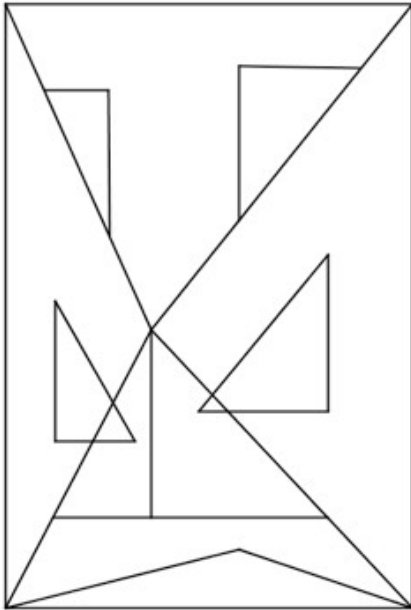


Solution énigme n°2 : cycle 3

1. les triangles

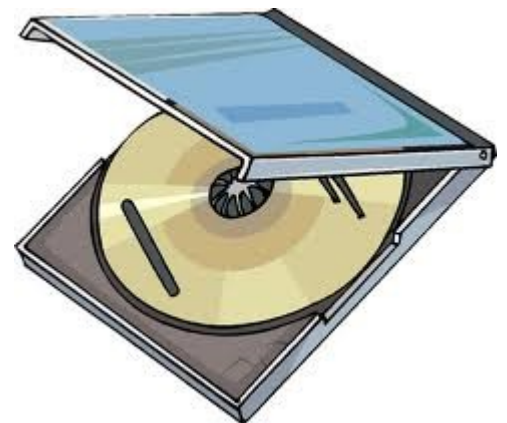


Combien y a-t-il de triangles dans cette figure ?

Réponse : Dans cette figure, on compte 14 triangles.

2. Le CD

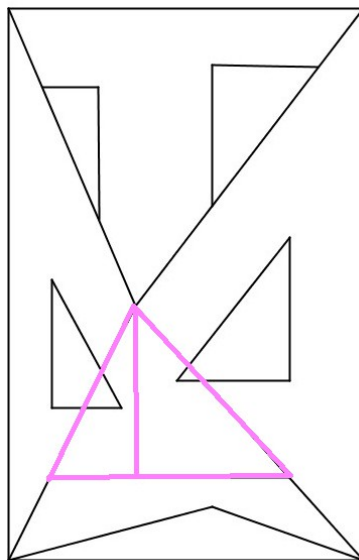
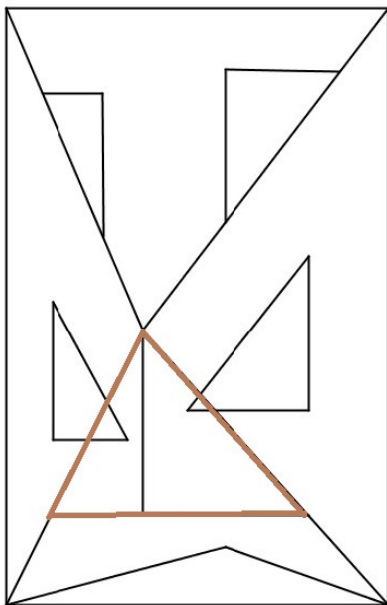
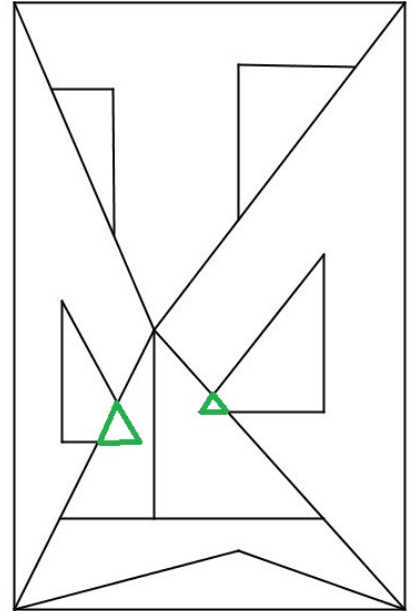
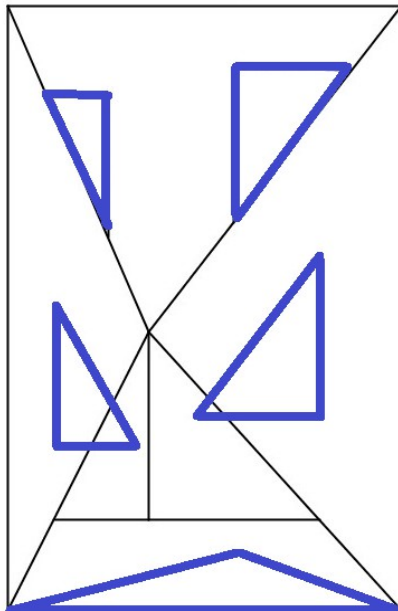
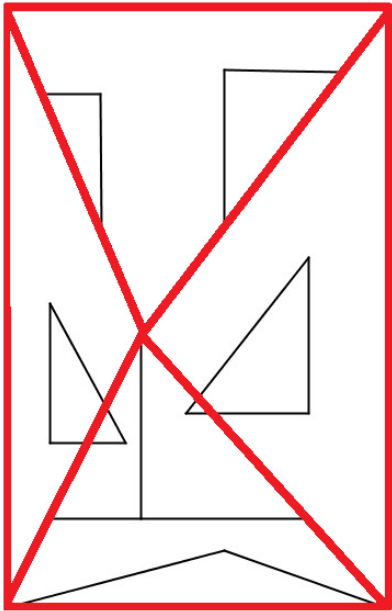
David donne 10 pièces pour payer un CD Rom qui coûte 14 €. Il n'a donné que des pièces de 2€, de 1 € et de 50 centimes. Quelles pièces a-t-il utilisées ?



Réponse : il a utilisé :
2 pièces de 50 centimes
3 pièces de 1 euro
5 pièces de 2 euros

Comment savoir si on a réussi ?

On compte 10 pièces et cela fait 14 euros.



On compte 14 triangles :
4 de couleur rouge
5 de couleur bleue
2 de couleur verte
1 de couleur marron
2 de couleur mauve